

DIPLÔME NATIONAL DU BREVET

HISTOIRE-GÉOGRAPHIE

ET

ÉDUCATION CIVIQUE

(série Collège – option LV2)

- Le candidat traitera obligatoirement les trois parties de l'épreuve, sachant que pour la première partie, il choisira un sujet parmi les deux proposés.
- 4 points sont attribués à l'orthographe et l'expression écrite.
- L'utilisation des calculatrices électroniques n'est pas autorisée.

**Examen : DIPLOME NATIONAL DU BREVET
SESSION 2003**

Série : Collège

Durée : 2 h

**Epreuve : HISTOIRE – GÉOGRAPHIE
ET
ÉDUCATION CIVIQUE**

Coef : 1

CODE SUJET : HGECESP3

Première partie : histoire-géographie (18 points)

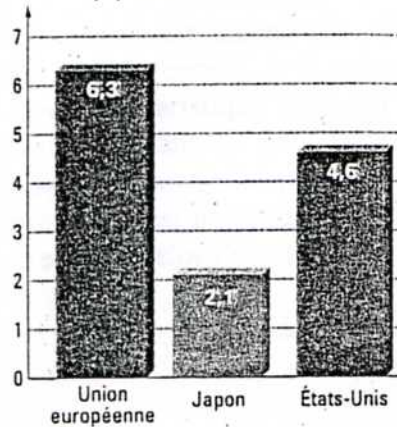
(Le candidat doit traiter un des deux sujets au choix)

1° Sujet (géographie) : L'union Européenne.

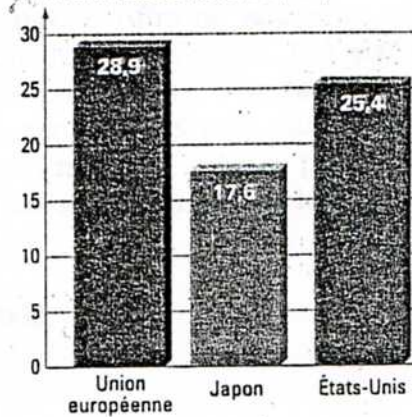
Documents :

Document 1 : L'Union européenne, une puissance mondiale.

En % de la population mondiale



En % de la richesse mondiale (PNB)



Document 2 : Les grands pôles et les flux commerciaux dans le monde.

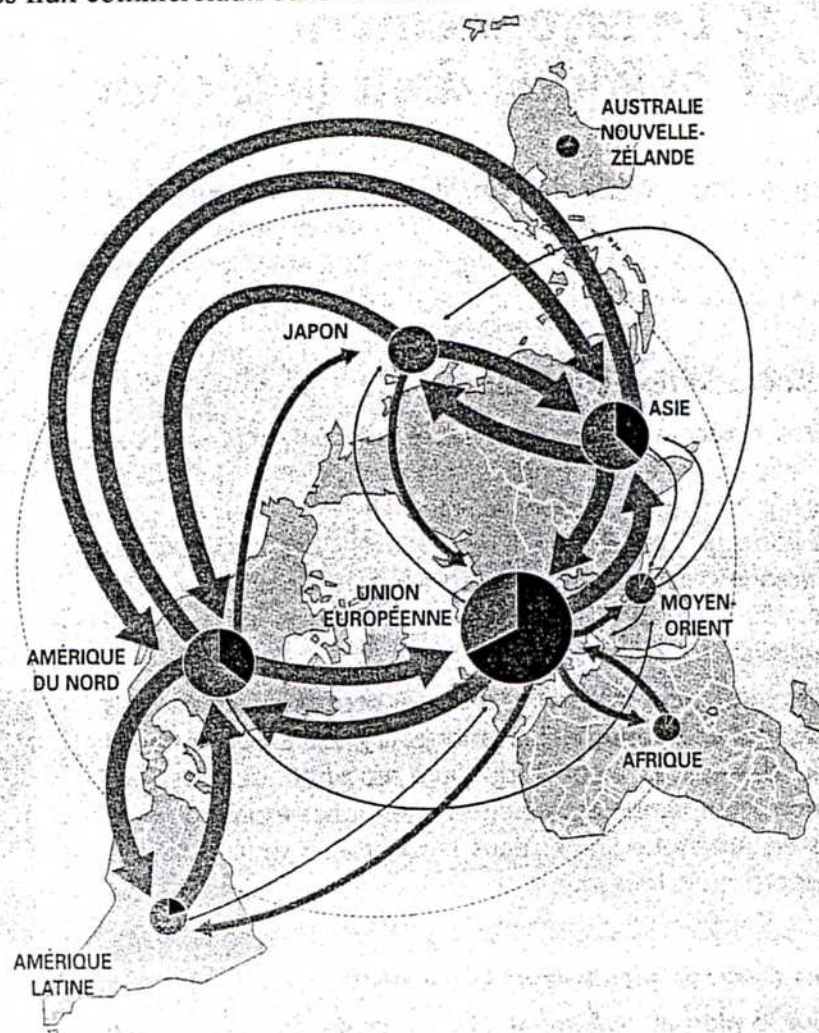

➔ Principaux flux commerciaux:
(flèches proportionnelles à l'importance des échanges)

Total des échanges



Part des échanges faits à l'intérieur de la zone

En milliards de dollars



Les statistiques ne considèrent ici que le commerce donnant lieu à un franchissement de frontière.
Le total des échanges de l'UE représente 2 110 milliards de dollars dont 60 % sont réalisés à l'intérieur de la zone UE.

**Examen : DIPLOME NATIONAL DU BREVET
SESSION 2003**

Série : Collège

Durée : 2 h

**Epreuve : HISTOIRE – GÉOGRAPHIE
ET
ÉDUCATION CIVIQUE**

Coef : 1

CODE SUJET : HGECESP3

Document n°3 : Les risques d'un élargissement mal préparé :

« Après être passée avec succès de six à neuf, puis à douze, puis à quinze, la communauté ne parviendrait-elle pas à passer à 25 avec l'adhésion de dix nouveaux pays : huit anciens pays communistes (Pologne, Hongrie, République tchèque, Slovaquie, Slovénie, Républiques baltes) auxquels s'ajoutent Malte et Chypre ?

A priori, tout élargissement est fécond d'avantages économiques. Il offre de nouveaux débouchés. Il impose une nouvelle concurrence (...) Il présente un réservoir de main-d'œuvre. Cet élargissement-ci présente toutefois une caractéristique nouvelle par rapport aux précédents : c'est la première fois que l'Union ouvre la porte à autant de gens pauvres. Le revenu par tête des pays candidats n'atteint en moyenne que 40 % de celui des Quinze. Ceci nourrit deux risques majeurs : celui de provoquer un afflux d'immigrés si les revenus à l'est ne se rapprochent de ceux de l'ouest et celui de voir le chômage à l'ouest augmenter si les entreprises délocalisent leurs entreprises. »

Le Monde, 14 octobre 2002.

Question :

Document 1 et 2 :

- 1) Relevez pour chacun de ces deux documents les éléments qui montrent la puissance de l'Union européenne (4 points).
- 2) Pourquoi le futur élargissement de l'Union européenne peut-il contribuer à renforcer sa puissance ? (2 points)
- 3) Pourquoi cet élargissement inquiète-t-il aussi ? (2 points)

Paragraphe argumenté : (10 points)

Rédiger, grâce aux documents et à vos connaissances, un paragraphe argumenté d'une vingtaine de lignes dans lequel vous montrerez que l'Union européenne est une grande puissance mais que son avenir suscite quelques inquiétudes.

